

이제 바로 수학이야

독후 활동지





수 세기



1. 풍선은 모두 몇 개인가요?

풍선에 1부터 차례대로 숫자를 쓰면서 세어 보세요.



2. 아이스크림을 3개씩 묶어 보세요.

모두 몇 묶음인가요? 아이스크림은 모두 몇 개인가요?

_____ 묶음, _____ 개

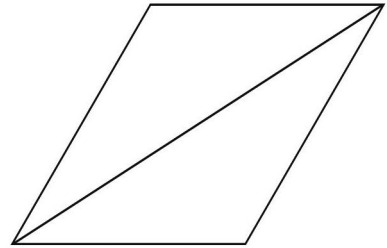
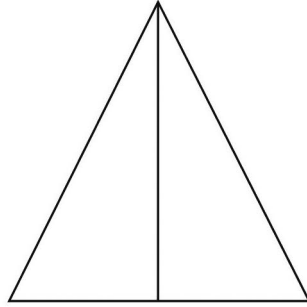





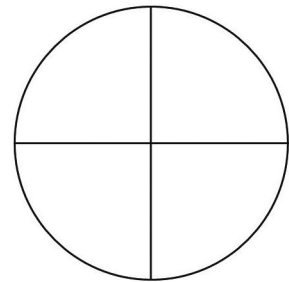
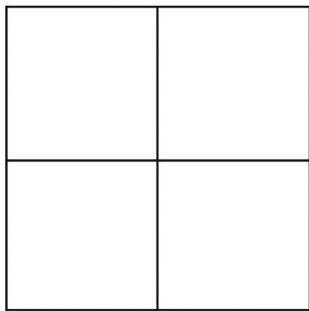
나누기



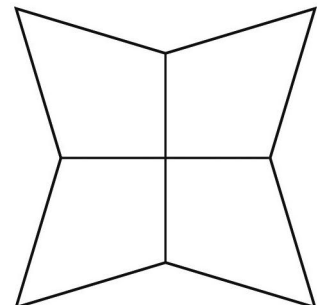
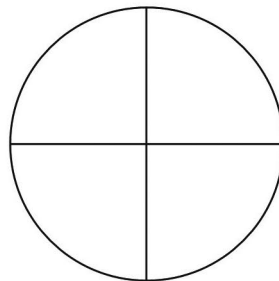
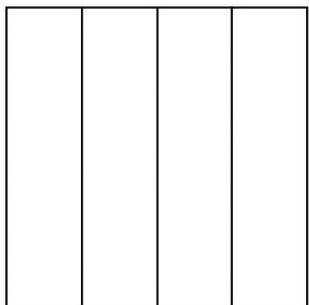
1. 아래 그림에서 $\frac{1}{2}$ 을 각각 색칠해 보세요.



2. 아래 그림에서 $\frac{1}{4}$ 을 각각 색칠해 보세요.



3. 아래 그림에서 $\frac{3}{4}$ 을 각각 색칠해 보세요.





나누기



4. 12조각으로 이루어진 초콜릿을 여럿이 나누어 먹는다면, 한 사람이 몇 조각씩 먹을 수 있을까요?
한 명이 먹는 조각을 색깔로 구분해 칠해 보세요.

3명

| | | | | | |
|--|--|--|--|--|--|
| | | | | | |
| | | | | | |

한 사람이 _____ 개씩 먹어요

4명

| | | | | | |
|--|--|--|--|--|--|
| | | | | | |
| | | | | | |

한 사람이 _____ 개씩 먹어요

2명

| | | | | | |
|--|--|--|--|--|--|
| | | | | | |
| | | | | | |

한 사람이 _____ 개씩 먹어요

1명

| | | | | | |
|--|--|--|--|--|--|
| | | | | | |
| | | | | | |

한 사람이 _____ 개 먹어요

12명

| | | | | | |
|--|--|--|--|--|--|
| | | | | | |
| | | | | | |

한 사람이 _____ 개씩 먹어요

6명

| | | | | | |
|--|--|--|--|--|--|
| | | | | | |
| | | | | | |

한 사람이 _____ 개씩 먹어요

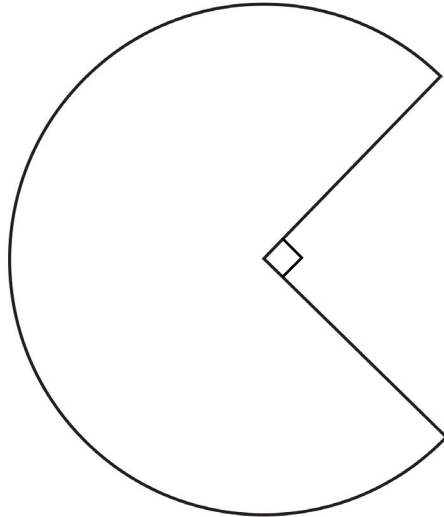


각도

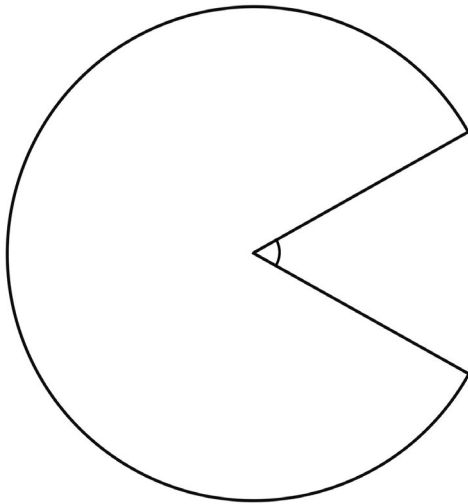


직각, 예각, 둔각으로 입을 벌린 동그라미가 있어요.

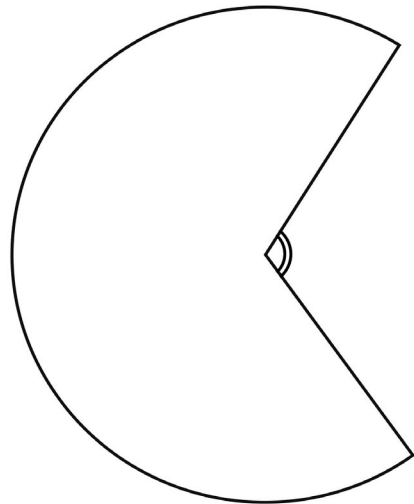
나만의 멋진 캐릭터로 꾸며 보세요.





정확히 90° 를
■ 각이라고 해요.



90° 보다 작은 각을
■ 각이라고 해요.



90° 보다 크고 180° 보다 작은 각을
■ 각이라고 해요.








입체 도형



아래 전개도를 접으면 무엇이 될까요?
가위로 오려서 실제로 접어 보고, 이름을 알아보세요.



입체 도형





가게 놀이



아래 카드를 오려 보세요.


가장 비싼 물건과 가장 싼 물건은 무엇인가요?

사고 싶은 물건을 모두 고른 다음 얼마가 필요한지 계산해 보세요.

만약 1000원이 있다면 무엇을 사고 싶은지 모두 골라 보세요.




300원




900원



500원



1200원



300원



2000원




400원



200원



100원



200원



200원



200원

가게 놀이




700원




500원




100원



600원




500원




100원



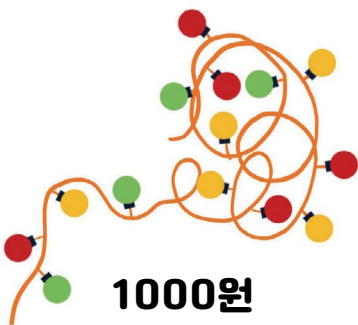
800원



2500원



1100원



1000원




1400원



500원



1200원



300원



600원



어림하기



그림책 《이게 바로 수학이야》의 무게는
약 430g입니다. 집에 있는 물건들을 들어 보고
그림책 무게와 비교하여 어림해 보세요. 저울이 있다면 무게를 재고,
가장 무거운 것부터 순서를 매겨 보세요.

| | 어림한 무게 | 실제 무게 | 무거운 순서 |
|-----|--------|-------|--------|
| 그림책 | | 430g | |
| | | | |
| | | | |
| | | | |
| | | | |
| | | | |
| | | | |
| | | | |





측정하기



1. 아래 표에 초콜릿 머핀을 만들 수 있는 재료가 있어요. 4인분 재료를 참고해서 8인분, 16인분 재료의 양을 구해 보세요.

| 재료 | 4인분 | 8인분 | 16인분 |
|--------|-------------------|-----|------|
| 밀가루 | 100g | | |
| 코코아 가루 | 10g | | |
| 베이킹파우더 | 1작은술 | | |
| 설탕 | 50g | | |
| 버터 | 25g | | |
| 달걀 | 1개 | | |
| 우유 | 50mL | | |
| 바닐라 향료 | $\frac{1}{2}$ 작은술 | | |
| 초콜릿 | 100g | | |
| 머핀 틀 | 4개 | | |





측정하기



2. 1m 이상 잴 수 있는 줄자를 준비하세요.
 길이가 1m보다 작은 물건, 또 1m보다 큰 물건을
 세 개씩 골라서 길이를 재 보세요.

| 재료 | 1m보다 작은 물건 | 1m보다 큰 물건 |
|-------|------------|-----------|
| 집 안에서 | | |
| | | |
| | | |
| 집 밖에서 | | |
| | | |
| | | |

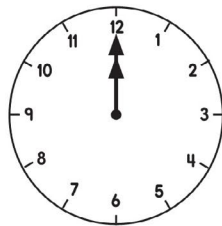




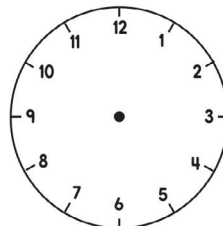
시간



세계 여러 도시의 시간을 비교해 보아요.
왼쪽 도시의 시간과 시차를 보고
오른쪽 도시의 시계를 그려 보세요.

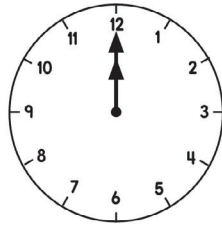


시차가 없어요
(시간이 같아요)

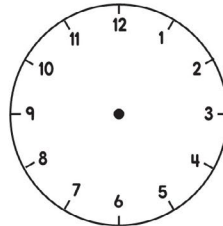


미국 뉴욕

브라질 마나우스

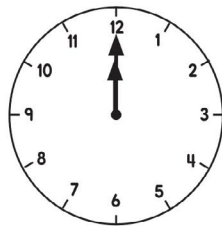


핼리팩스가
4시간 늦어요

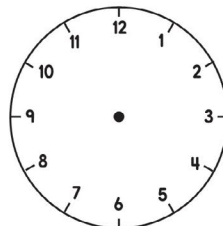


가나 아크라

캐나다 핼리팩스

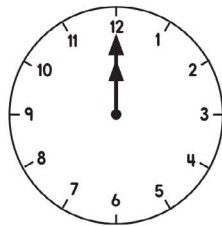


퍼스가
1시간 늦어요

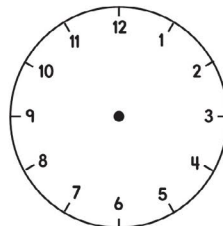


일본 도쿄

오스트레일리아 퍼스



오클랜드가
4시간 빨라요



중국 상하이

뉴질랜드 오클랜드


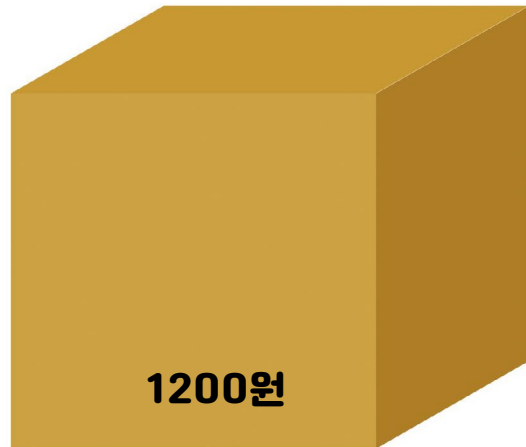
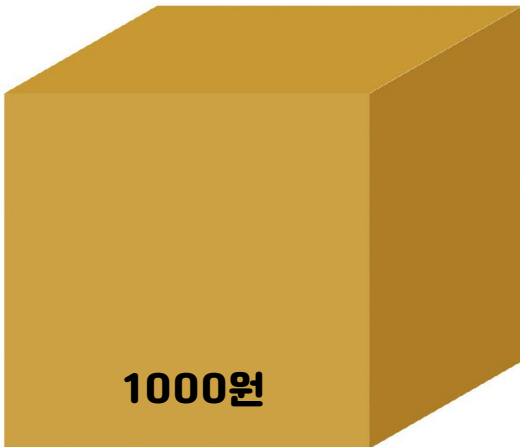




우표 놀이



소포에 표시된 요금을 보고 우표를 붙여 보세요.
우표는 소포마다 색깔별로 한 장씩만 쓸 수 있어요.

★우표는 맨 뒤에 있어요.






가능성



사탕 뽑기 기계에 사탕이 모두 40개 있어요.

어떤 사탕을 뽑고 싶어요?

네 가지 맛 사탕 개수를 각각 세어 보고,
좋아하는 사탕이 나올 가능성을 분수로 써 보세요.



뽑기 기계 안의 모든 사탕 개 중에

개입니다.

개입니다.

개입니다.

개입니다.

블루베리 맛 사탕이 나올 가능성은 $\frac{\text{input}}{\text{input}}$ 입니다.

딸기 맛 사탕이 나올 가능성은 $\frac{\text{input}}{\text{input}}$ 입니다.

바나나 맛 사탕이 나올 가능성은 $\frac{\text{input}}{\text{input}}$ 입니다.

키위 맛 사탕이 나올 가능성은 $\frac{\text{input}}{\text{input}}$ 입니다.



큰 수



큰 수를 어떻게 읽을까요?

여러 가지 큰 수를 보며 빈 칸을 채우고, 이름을 따라 써 보세요.

100

0이



개 있어요.

백

이라고 읽어요.

1000

0이



개 있어요.

천

이라고 읽어요.

10000

0이



개 있어요.

만

이라고 읽어요.

100000

0이



개 있어요.

십만

이라고 읽어요.

1000000

0이



개 있어요.

백만

이라고 읽어요.

10000000

0이



개 있어요.

천만

이라고 읽어요.

100000000

0이



개 있어요.

억

이라고 읽어요.

1000000000

0이



개 있어요.

십억

이라고 읽어요.

10000000000

0이



개 있어요.

백억

이라고 읽어요.

100000000000

0이



개 있어요.

천억

이라고 읽어요.

1000000000000

0이



개 있어요.

조

라고 읽어요.




가위로 오려서 우표 놀이에 사용하세요.



책 소개



독후 활동지 다운로드

〈이게 바로 수학이야〉 독후 활동지 7~10세용
그림 엘리나 브라슬리나 감수 강미선 제작·배포 **모알보알**
 moalboal.book